



<b>TALLER DE MEJORAMIENTO ACADEMICO</b>	
<b>AREA: MATEMATICAS</b>	<b>GRUPO: 101-102-103-104</b>
<b>LOGRO: Mejorar procesos cognitivos a través de diferentes actividades de conocimientos, en los Estudiantes de bajo rendimiento académico.</b>	
<b>FECHAS: Marzo de 2018</b>	<b>periodo: 1</b>
<b>RESPONSABLES: Anny serna, Paula Rico, María Teresa Rúa, Lina Molina</b>	
<b>OBSERVACIONES: Realice las actividades según las indicaciones.</b>	

## SECUENCIAS

### 1. COMPLETA EN LAS IMÁGENES LOS NUMEROS QUE FALTAN.

Una actividad de completar secuencias numéricas con tres filas de dibujos. La primera fila muestra una hormiga con el número 1, seguida de un espacio vacío, otro espacio vacío, el número 4, el número 5, y tres espacios vacíos. La segunda fila muestra un tren con el número 0 en el motor, un espacio vacío, el número 2, un espacio vacío, el número 5, un espacio vacío, el número 8, y un espacio vacío. La tercera fila muestra un zapato con el número 2, un espacio vacío, un espacio vacío, un espacio vacío, un espacio vacío, el número 7, un espacio vacío, un espacio vacío, y un espacio vacío.

### 2. RESUELVE LAS SUMAS Y RESTAS

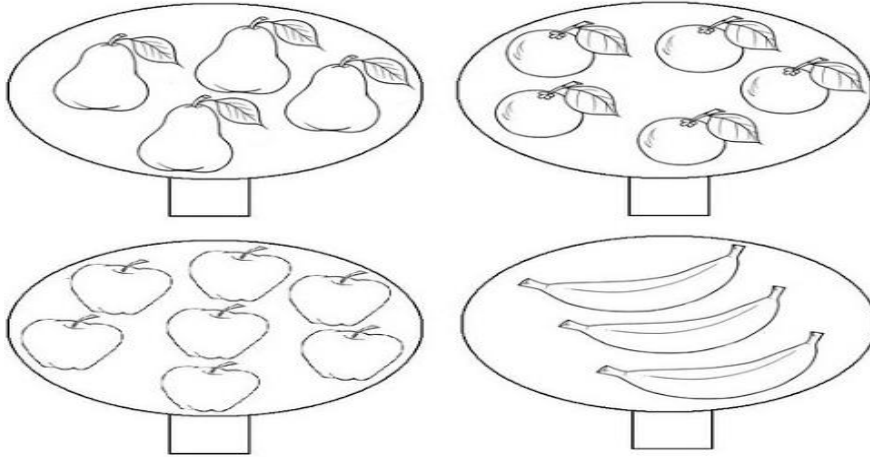
$$4+5= \quad 3+5= \quad 5+5= \quad 2+0= \quad 10+10= \quad 8+2=$$
$$5-3= \quad 9-4= \quad 10-6= \quad 4-4= \quad 20-10= \quad 7-2=$$

### 3. ESCRIBE LOS NÚMEROS DEL 1 AL 20.

### 4. CONJUNTOS

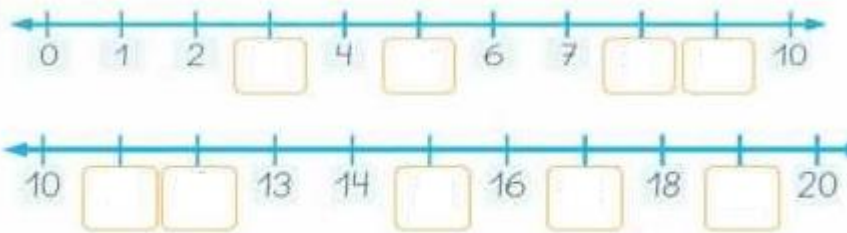


**VAMOS CONTAR?**




**5. ORDENAR NUMEROS EN LA RECTA NUMERICA**

**SUMA 1 A CADA NÚMERO Y COMPLETA LAS RECTAS.**



**6. LA DECENA**

**ESTE PERRITO QUIERE COMER UNA DECENA DE HUESOS  
COLOREA.**





**INSTITUCIÓN EDUCATIVA FEDERICO SIERRA ARANGO**  
**Resoluciones Dptales. 15814 de 30/10/2002 - 9495 de 3/12/2001**  
**NIT: 811039779-1 DANE: 105088001750**  
**Bello - Antioquia**

