



INSTITUCIÓN EDUCATIVA FEDERICO SIERRA ARANGO
 Resoluciones Dptales. 15814 de 30/10/2002 - 9495 de 3/12/2001
 NIT: 811039779-1 DANE: 105088001750
 Bello - Antioquia




PMP PERIODO UNO	
AREA: MATEMATICAS	GRADOS: Segundos
FECHA: MARZO 2018	
RESPONSABLE: Claudia Valderrama, Lila Milanés, Alejandra Correa	

Nombre _____ Grado _____ Fecha _____

1. Representa un conjunto de animales domésticos, coloca cuantos elementos tiene.

D




_____ es un conjunto de animales

_____ tiene _____ elementos

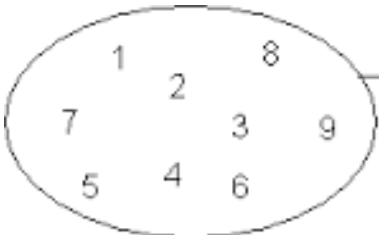
2. Observa el conjunto y escribe el signo pertenece o no pertenece según el caso.

L



m	_____	L
e	_____	L
x	_____	L
j	_____	L
b	_____	L
d	_____	L
z	_____	L
y	_____	L
u	_____	L

3. Escribe el cardinal del conjunto.

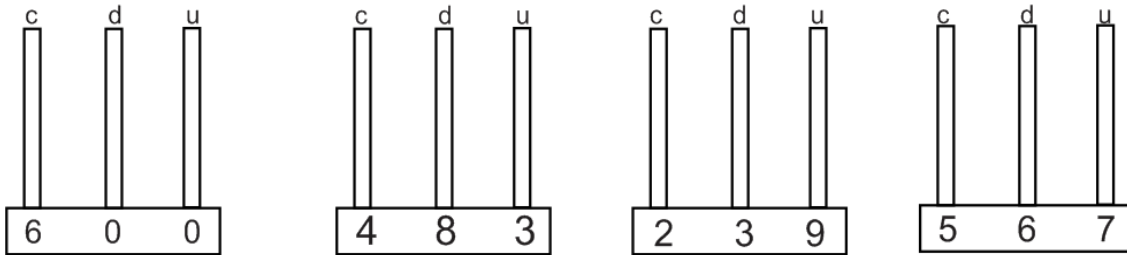


L

El cardinal de L es: _____



4. Representa en el abaco



5. Cuenta las centenas y completa:

+ + = _____ Centenas.

+ + + = _____ Centenas

6. Escribe la lectura de cada número:

Numero	Se lee
748	
209	
190	
366	
528	
941	

7. Relaciona las columnas con flecha

- | | |
|-----|---------|
| 200 | 300+300 |
| 400 | 100+100 |
| 600 | 200+200 |
| 800 | 400+400 |



INSTITUCIÓN EDUCATIVA FEDERICO SIERRA ARANGI
 Resoluciones Dptales. 15814 de 30/10/2002 - 9495 de 3/12/2001
 NIT: 811039779-1 DANE: 105088001750
 Bello - Antioquia



8. Escribe como se descompone cada número

472= ___centenas+ ___decenas+ ___unidades

863= ___centenas+ ___decenas+ ___unidades

409= ___centenas+ ___decenas+ ___unidades

9. Completa las tablas

+239
↙ ↘

531	770
700	
734	
605	
392	

+503
↙ ↘

443	946
634	
226	
515	
301	

10. Se hizo una encuesta a los niños de segundo grado sobre su materia favorita y este fue el resultado

Materias	cantidad
matemáticas	
Español	
Artística	
ingles	

¿Cuántos fueron los niños encuestados?

¿Cuál es la materia favorita?

¿Cuál es la materia menos preferida?

11. Realiza 10 sumas y 10 restas en el círculo del 999